

5月 21日(木) 【たし算】

+	8	5	7	6	9	1	4	2	3	10
1										
6										
8										
3										
9										
5										
4										
2										
7										
9										

名前

分 びょう

5月 21日(木) 【答え】

+	8	5	7	6	9	1	4	2	3	10
1	9	6	8	7	10	2	5	3	4	11
6	14	11	13	12	15	7	10	8	9	16
8	16	13	15	14	17	9	12	10	11	18
3	11	8	10	9	12	4	7	5	6	13
9	17	14	16	15	18	10	13	11	12	19
5	13	10	12	11	14	6	9	7	8	15
4	12	9	11	10	13	5	8	6	7	14
2	10	7	9	8	11	3	6	4	5	12
7	15	12	14	13	16	8	11	9	10	17
9	17	14	16	15	18	10	13	11	12	19

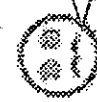
今日のじこひようか
色をぬりましょう



やったー
花まる100点



OK
花まる



とほほ

めあて きつきの商売「3」の場面を考えよう。

教科書27ページの「1」のれいをまんじゅう、きつきの商売の「3」の場面を考えよう。

とつじょう しんぶん	
天気や場所など	
音	
できごと	

イラスト
(場面のようすを絵でかきましよう。)

めあて くり下がりに気をつけて、ひっさんで計算しよう。

★教科書51ページも見てください。

①

もえさんは 315 円もっています。
194 円のスティックのりをかうと、何円のこりですか。

しき

ひっ算

$$\begin{array}{r} 315 \\ - 194 \\ \hline \end{array}$$

答え _____

2年生の時と同じように くらいをそろえ書き、
一のくらいからじゅんばんに 計算 しよう！
ひけないときは、となりのくらいから10を
かりてきましょう。

ヒント
0→10

$$\begin{array}{r} \times 15 \\ - 94 \\ \hline 21 \end{array}$$

①一の位 ^{かい} 5-4
②十の位 ^{かい} 1-9
足りないから、百のくらいから
10かりてきて、11-9

2~3ページにれんしゅうもんだいがあります。ちょうせんしましょう。

さいごのページにこたえがのっているので、お家の人にまるつけをもらいましょう。

はやくおわったら、教科書136ページ キのほじゅうもんだいをやってみましょう。

ふりかえり

(わかったこと、できたこと、むずかしかったことなどをかきましょう。)

①	7	6	5		②	5	8	7		③	6	9	3
-	4	1	3		-	3	2	4		-	3	6	5
④	4	3	2		⑤	9	2	0		⑥	7	1	0
-	1	2	6		-	9	1	4		-			5
⑦	6	3	8		⑧	3	4	9		⑨	5	0	7
-	2	7	1		-		7	3		-		8	6
⑩	7	3	4		⑪	8	6	5		⑫	6	4	2
-	2	5	8		-	2	8	7		-		4	9

こたえ

1 ページ目

$315 - 194 = 121$ 答え121円

2 ページ目

①352 ②263 ③328

④306 ⑤6 ⑥705

⑦367 ⑧276 ⑨421

⑩476 ⑪578 ⑫593

3 ページ

①310 ②215

③520 ④212

⑤254 ⑥131

⑦113 ⑧721

⑨314 ⑩641

⑪115 ⑫133

⑬528 ⑭225

⑮241 ⑯392

⑰342 ⑱219

⑲555 ⑳367



目ざせ！地図記号マスター

名前

地図記号をおぼえると、行ったことのない町でも、地図記号を見ただけで、町のようにわかって、おもしろいよ！
今日は、「地図記号」と「あらわすもの（その記号の形のいみ）」が正しい組み合わせになるように ———（線）でおすびましょう

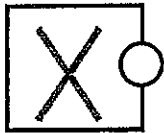


線はじょうぎで
まっすぐひこう



①

○ ゆうびんきょく
むかしのゆうびんをあらわす「ていしん」ということばの「テ」をデザインしたもの



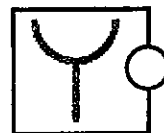
②

○ 寺（てら）
ぶっきょうでよろこびをあらわす「まんじ」というきごうの形



③

○ 学校
「文」という文字からできた



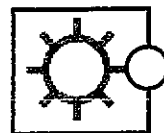
④

○ 工場（こうじょう）
きかいはぐるまの形をあらわしている



⑤

○ びょういん
むかしのぐんたいの「えいせいたい」のしるしの形からつくられた



⑥

○ しょうぼうしょ
「さすまた」というむかしのしょうぼうの道ぐからできた



⑦

○ こうばん
けいさつかんのけいぼうをこうささせた形をあらわす




⑧

○ じんじゃ
じんじゃのいり口にあるとりいをあらわしたもの

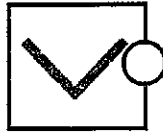


⑨

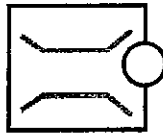
○ 市やく所
形にかんけいのないたんなるきごう



① ○ はし
はしを上から見た形からできた



② ○ しんりん
こうようじゅの広いほど、しんようじゅのとがった
はをあらわす



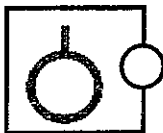
③ ○ はたけ
たねからめを出した2まいのはをあらわしたもの



④ ○ 田
いねをかりとった後の切りかぶを
あらわしたもの



⑤ ○ はくぶつかん
はくぶつかんなどのたてものの形を
あらわす



⑥ ○ 図書館
本をひらいた形をあらわす



⑦ ○ くだものばたけ
くだものみの形からできた

地図きごうをおぼえて、
町のようすがわかるよう
になったけれど...

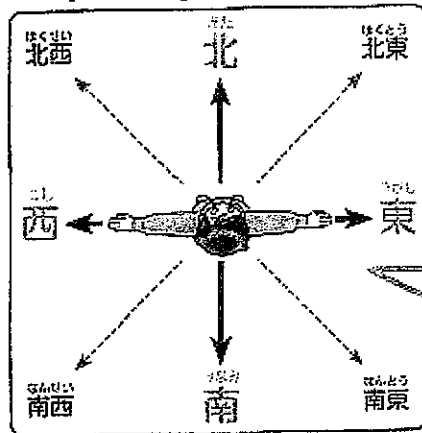


地図を見るほうこう
によって、右や左の
ほうこうがちがうよ

地図のほうこうは、東西南北の方角
であらわすんだって!

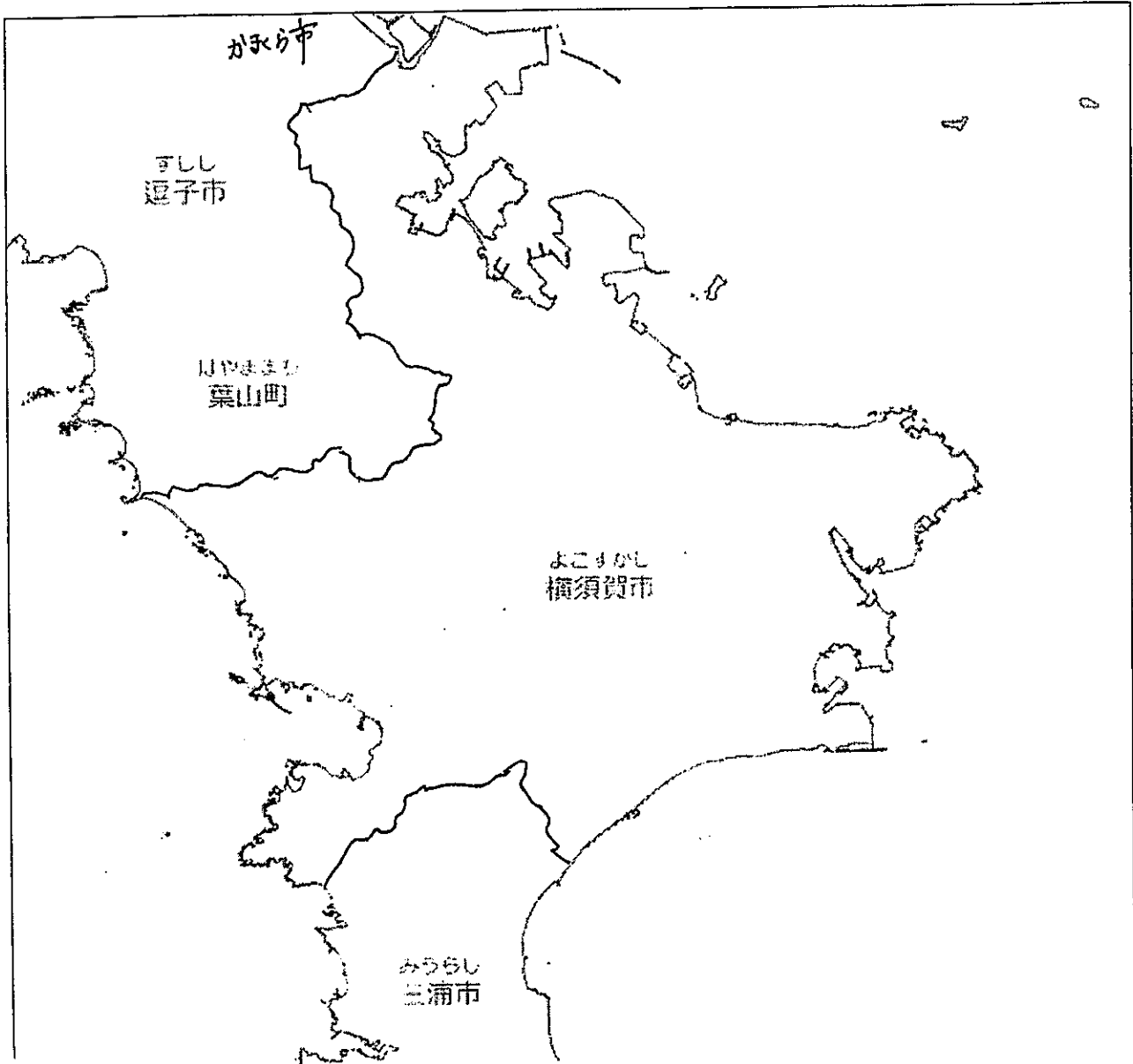


今日は、東西南北の方こうを覚
えてね。つぎのかだいのとき、
もんだいにするよ



北の方向を向いて
立った場合、右手が東、
左手が西、背中が南の
方向になります。

- ①ふうとうに入っている うすいはんとうめいな紙(トレーシングペーパー)を下地図にかさねて、よこすか市の形をなぞりましょう。うつしたトレーシングペーパーは この紙のうらにのりではって先生にだします。



- ②よこすかの形はどんな形に見えましたか？また、きづいたことがあれば、かきましょう。

- ③よこすか市のとなりの市(4つ)の名前をかきましょう。